

Всероссийская олимпиада школьников 2024-2025 учебный год
 Школьный этап. География, 7 класс
 Время выполнения 60 мин. Максимальное кол-во баллов – 38
БЛАНК ОТВЕТОВ

Тестовый тур

№ задания	Ответ	Кол-во баллов	№ задания	Ответ	Кол-во баллов
1	В	1	10	В	0
2	Д	0	11	Б	0
3	БАГВ	0	12	А	0
4	Б	0	13		0
5	Г	0	14	Г	1
6	А В Г Б	0	15	Г	1
7	Б	0	16	А	1
8	Г	0	17	В	1
9	А	0	18	А	1
Всего баллов					6


Практический тур

Задание № 1.

Матрица ответов

10





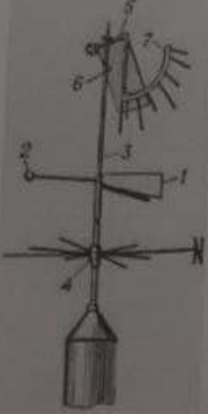

1	2	3	4	5	6	7	8	9	10
З	В	А	Б	Г	Е	Д	Ж	К	И







Задание № 2.

Вставьте недостающую информацию о географических приборах в соответствующую колонку. Максимальное количество баллов, которое можно набрать – 10.

Прибор	Название	Для чего служит?

<p>1.</p> 	<p>Тонометр</p>	<p>Для измерения давления</p>
<p>2.</p> 	<p>Курвиметр</p>	<p>для измерения ^{длины} длины ^{линий}</p>
<p>3.</p> 	<p>Теодрич</p>	<p>Прибор для наглядной демонстрации годового движения Земли вокруг Солнца и суточного вращения Земли вокруг своей оси.</p>
<p>4.</p> 	<p>Гигрометр психрометрический</p>	<p>прибор измеряющий влажность ^{воздуха}</p>
<p>5.</p> 	<p>ветрометр</p>	<p>Прибор для измерения направления ветра.</p>
<p>6.</p> 	<p>Осадкомер</p>	<p>прибор для измерения осадков</p>

<p>7.</p> 	<p>Анеометр</p>	<p>Прибор для измерения скорости ветра.</p>
<p>8.</p> 	<p>Сейсмограф</p>	<p>Для измерения колебаний поверхности земли</p>
<p>9.</p> 	<p>Компас</p>	<p>Прибор, предназначенный для определения сторон горизонта и состоящий из намагниченной стрелки, всегда показывающей на север.</p>
<p>10.</p> 	<p>Лазерный дальномер</p>	<p>Для быстрого определения расстояний с миллиметровой точностью</p>